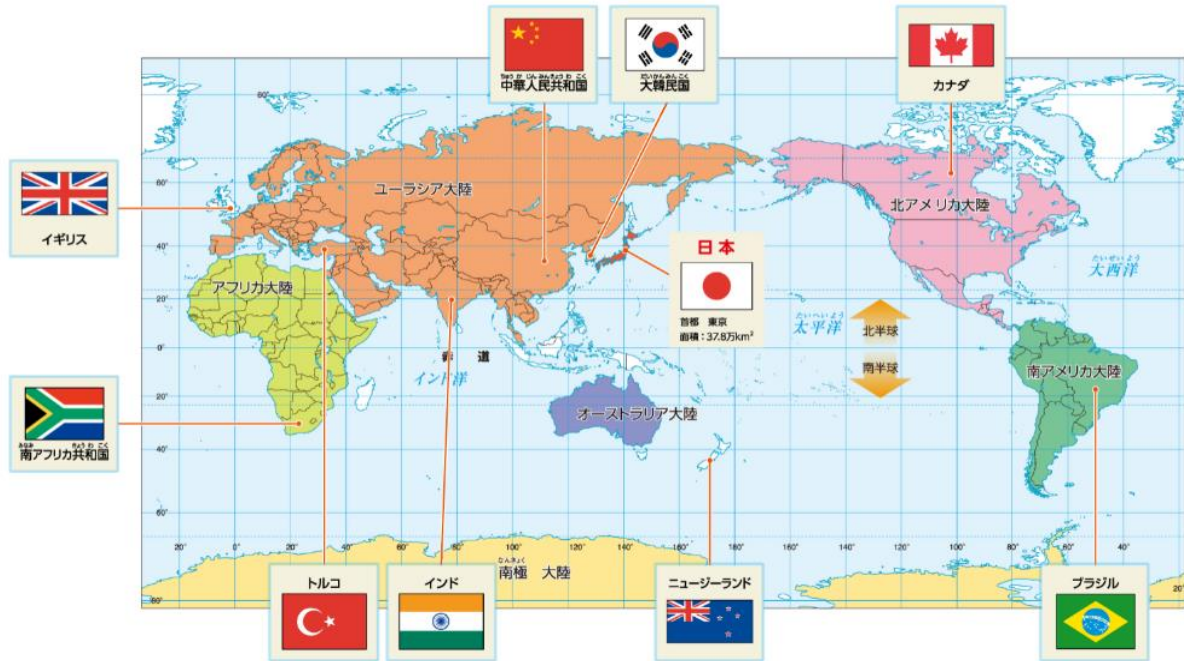
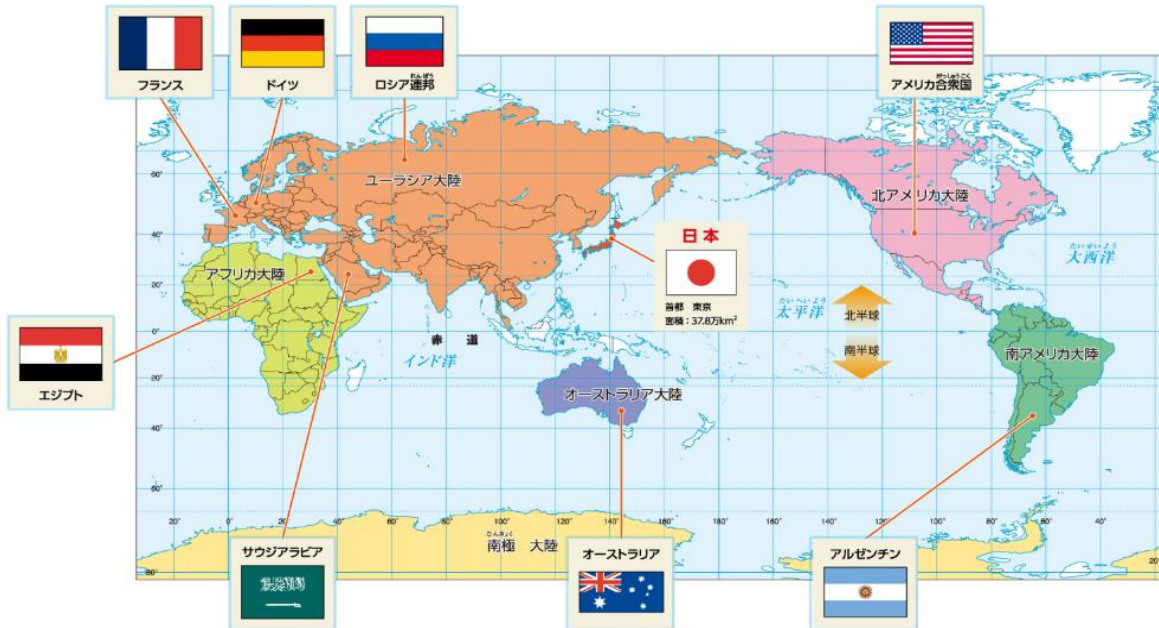


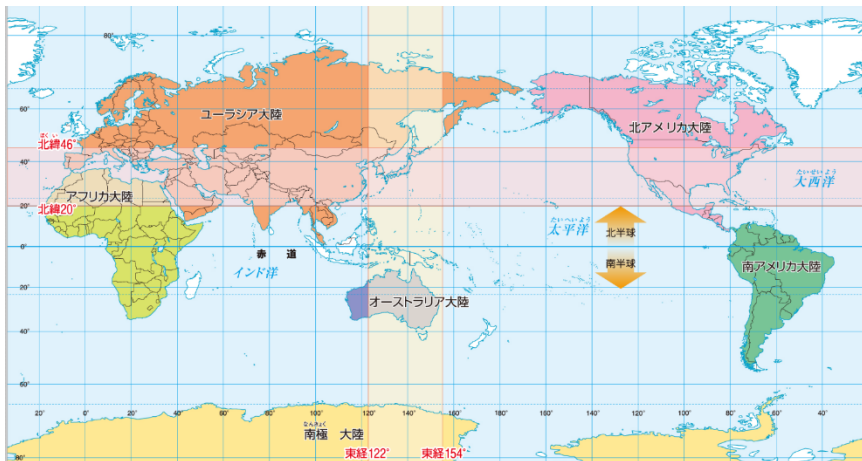
1 国名が入っている国は、地球儀や地図帳で地図を調べて、線でつなごう。



2 国名が空らんになっている国は、地球儀や地図帳で調べてみよう。



3 日本と同じ緯度や経度にある国を、地球儀や地図帳で調べてみよう。



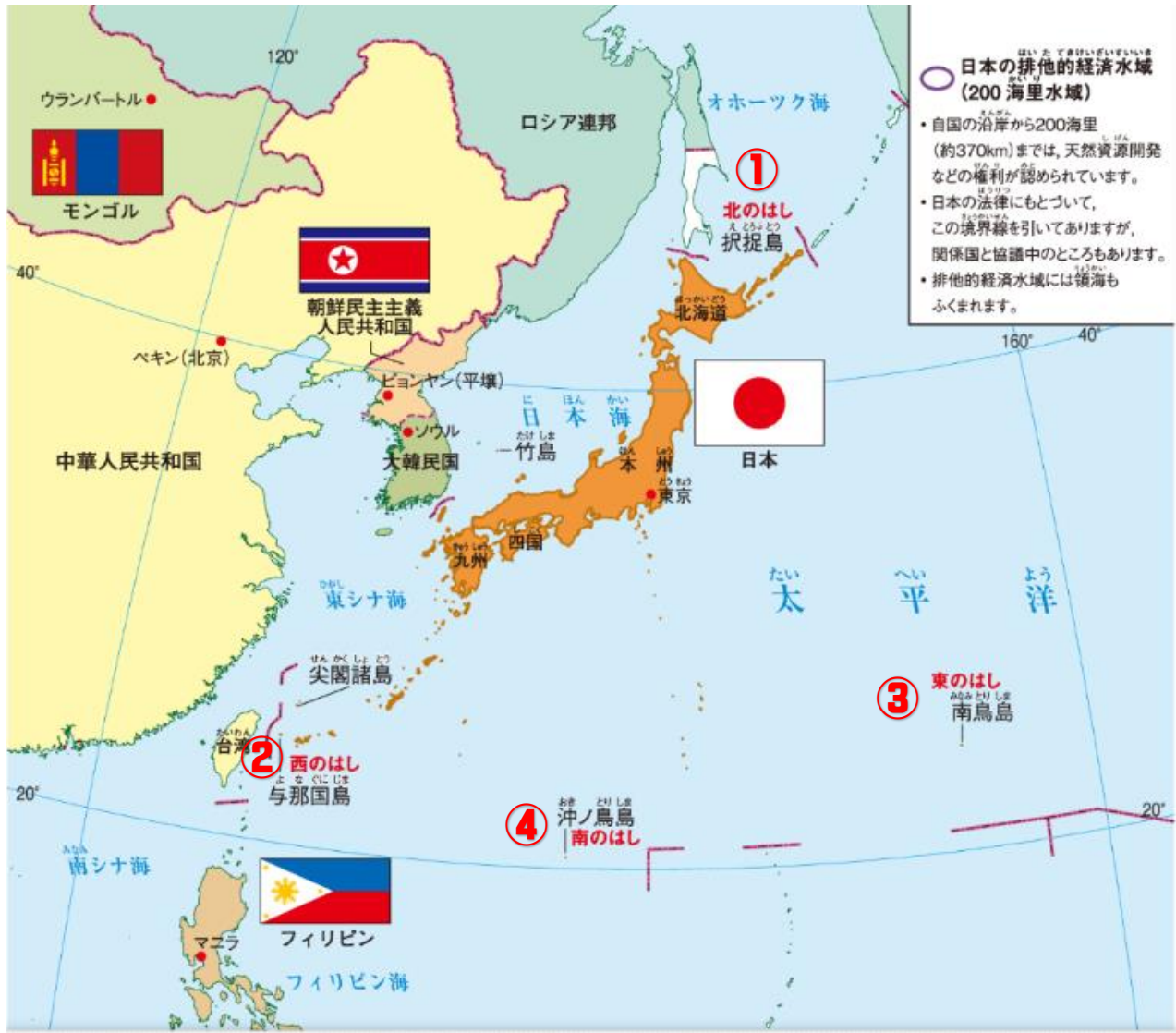
〈北緯 20° ~ 46°〉

中国・韓国・北朝鮮
スペイン・イタリア
エジプト・イラン
サウジアラビア など

〈東経 122° ~ 154°〉

韓国・北朝鮮・ロシア東部
オーストラリア など

- 1 国土を構成する主な島々を確認しよう。(北海道・本州・四国・九州)
- 2 日本のまわりの国々はどのような国々か、国名と位置を確認しよう。
- 3 日本のまわりの海の名しよを確認しよう。
- 4 日本の東西南北のはしはどこか確認しよう。



① 北のはし 択捉島



② 西のはし 与那国島



③ 東のはし 南鳥島



④ 南のはし 沖ノ鳥島



④ 沖ノ鳥島 (東京都)
島の大部分が海にしずんでしまうときもあります。そのため、まわりをコンクリートブロックで囲み、しずまないようにしています。